

	Задание 1.	Задание 2.	Задание 3.	Задание 4.	тест	итого
Баллы						

**Задания муниципального этапа
всероссийской олимпиады школьников по географии
2025-2026 учебный год, 7 класс**

Время выполнения – 150 минут

Максимальный балл – 80

Не разрешается пользоваться атласами, любыми справочными данными, в том числе сотовыми телефонами, и прочими гаджетами. Пишите разборчиво! Удачи!

Аналитический раунд

Задание 1.

Максимальное количество баллов – 20

1. Определите объекты по координатам, пользуясь контурной картой:

а) 15° ю.ш., 50° з. д.	б) 20° с.ш., 100° з.д.	в) 22° с.ш., 30° в.д.	г) 43° с.ш., 70° в.д.
д) 61° с.ш., 18° в.д.	е) 22° с.ш., 43° в. д.	ж) 10° с.ш., 130° в.д.	з) 22° с.ш., 78° з.д.
и) 40° с.ш., 2° в.д.	к) 70° с.ш., 40° в.д.	л) 19° с.ш., 39° в. д.	м) 58° с.ш., 180° д.

2. Впишите название объекта, определенного по координатам для каждого пункта

а)	б)	в)	г)
д)	е)	ж)	з)
и)	к)	л)	м)

3. Для найденных государств впишите столицы

Государство	Столица	Государство	Столица

Какое из найденных Вами морей самое большое по площади? _____

В каком государстве в течение года можно наблюдать дни и ночи равные суткам?

Задание 2. Максимальное количество баллов – 14

Внимательно рассмотрите часть топографической карты. Ответьте на вопросы.

1. Определите и запишите именованный масштаб карты. _____

2. Перечислите способы, с помощью которых можно определить масштаб этой карты.

3. Определите, через сколько метров проведены горизонтали. _____

4. Определите географические координаты г. Михалинская _____

5. Определите истинный и магнитный азимуты направления движения с г.Карьерная на г.Михалинская, если магнитное склонение западное 2°. _____

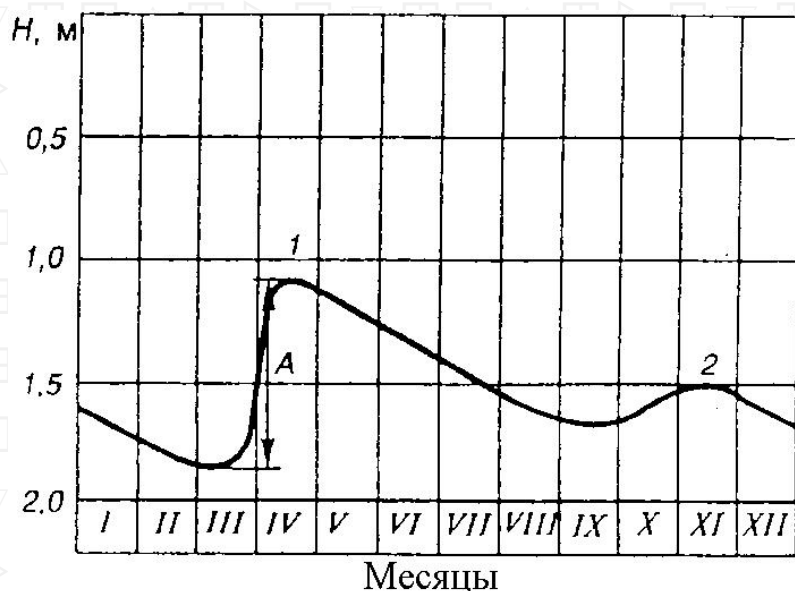
6. К северо-востоку от г.Михалинская находится лес. Как он называется? Охарактеризуйте его (укажите породу деревьев и количественные характеристики) _____

7. Чему будет равно атмосферное давление на уровне уреза воды р.Соть, если на г.Михалинская оно соответствует нормальному атмосферному давлению. Расчеты запишите. _____

8. Какой берег у р.Соть пологий? _____

Задание 3. Максимальное количество баллов – 10

Внимательно посмотрите на график колебания уровня грунтовых вод в течение года, который можно зарегистрировать в пределах Республики Татарстан в том числе.



С чем связаны наивысшие 1 и 2 уровни?

Что обозначено буквой А?

Приведите пример 4 антропогенных источника загрязнения подземных вод.

Рис.1. График колебания уровня грунтовых вод в течение года

Задание 4. Максимальное количество баллов – 16

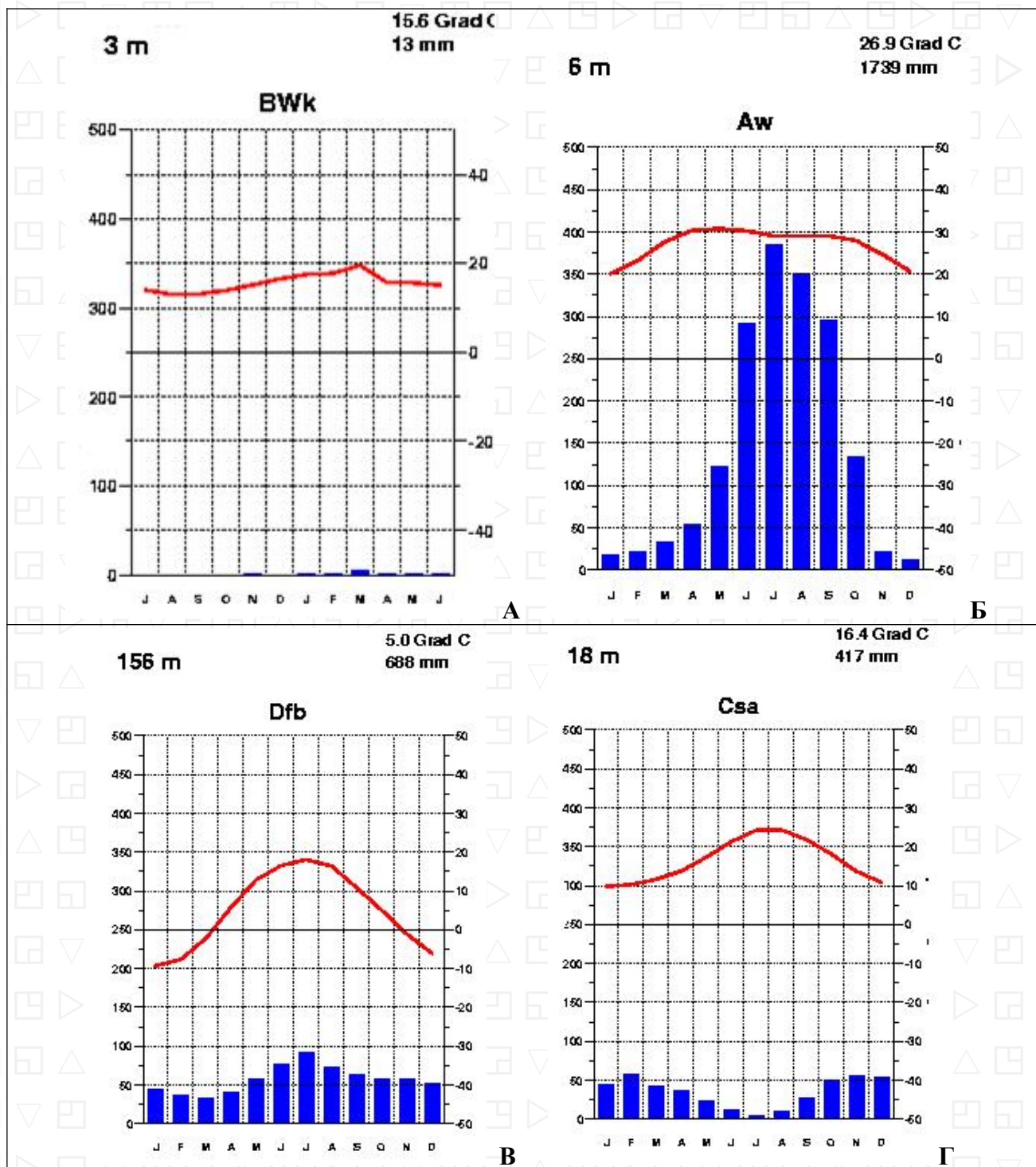
Четыре друга - юные географы одной из школ Татарстана летом посетили разные уголки земного шара и каждый привез с собой климатограмму того места, где он побывал.

Прочтите краткую характеристику территории, сопоставьте место пребывания с климатограммой (у климатограммы А внимательно посмотрите на месяцы), ответьте на вопросы, заполните таблицу.

1. Первый школьник побывал в центре одной из крупнейших равнин мира (климатограмма соответствует центру равнины). Поверхность равнины характеризуется развитостью речной сети: часть рек стекает в Северный ледовитый океан, другая часть относится к водосборному

бассейну Атлантического океана, а самая крупная река – к области внутреннего стока. Как называется равнина и самая крупная река?

2. Второй школьник побывал на самом большом острове моря, которое является реликтом океана Тетис и имеет связь с Атлантическим океаном через узкий пролив. На острове находится самый высокий действующий вулкан Европы. Как называется остров и вулкан?



3. Третий школьник побывал в пределах природной зоны (биом), которая сформировалась под воздействием холодного течения, на западном побережье материка, расположенного в трех полушариях. Поверхность здесь сложена песчаным и каменистым материалом. Водится жук-чернотелка и растение вельвичия. Здесь можно пособировать литопсы. Как называется эта территория? Что такое литопсы?

4. Четвертый школьник побывал в самой крупной речной дельте в мире, которая образуется при слиянии двух крупных рек региона и р.Мегхна. Как называются эти две реки? Здесь произрастает самый большой мангровый лес (вечнозеленый лиственный) – лес в приливо-отливной зоне.

№ описания	Литера климатограммы	Климатический пояс	Ответ на вопросы
1			
2			
3			
4			

ТЕСТОВЫЙ РАУНД

(за каждый верный ответ- 1 балл, максимально – 20 баллов)

1.	2.	3.	4.	5.	6.	7.	8.	9.	10.
11.	12.	13.	14.	15.	16.	17.	18.	19.	20.

- На территории какого государства в день зимнего солнцестояния полуденное солнце находится в зените?
а) России, б) Китае, в) Бразилии, г) Индонезии
- Какое озеро является самым северным из перечисленных:
а) Виктория, б) Байкал, в) Мичиган, г) Ладожское.
- Какие горы не имеют отношения к территории России?
а) Уральские горы; б) Алтай; в) Кавказ; г) Тянь-Шань.
- Какая река относится к бассейну Атлантического океана?
а) Северная Двина, б) Кубань, в) Печора, г) Урал.
- Остров, на котором расположена столица государства -
а) Мадагаскар, б) Гренландия, в) Сицилия, г) Сахалин.
- В каком масштабе карта соответствует крупномасштабным картам?
а) 1:100 000, б) 1:500 000, в) 1:1000 000, г) нет верного ответа.
- Самая большая по площади страна Евразии, которая не выходит к морю:
а) Казахстан, б) Монголия, в) Узбекистан, г) Кыргызстан.
- Где образуется новая земная кора океанического типа?
а) во внутренних морях, б) в океанических желобах,
в) в зоне срединно-океанических хребтов, г) в области островных дуг.
- Какая из перечисленных горных пород характерна для щитов платформ?
а) гранит, б) глина, в) известняк, г) песчаник.
- Откуда дует пассат в южном полушарии?
а) с юга, б) юго-востока, в) с севера, г) с юго-запада.
- Какой остров получает больше всего осадков за год?
а) Тайвань, б) Калимантан, в) Шри-Ланка, г) Тасмания.
- Какое течение самое мощное в Мировом океане?
а) Западных ветров, б) Гольфстрим, в) Южное пассатное, г) Северное пассатное.
- Какое слово является синонимом слова «изогипсы»?
а) меридианы, б) параллели, в) горизонталы, г) вертикали.
- Линии, соединяющие точки с одинаковой соленостью – это...
а) изобаты, б) изодинамы, в) изобары, г) изогалины.
- Какое кругосветное путешествие будет короче:
а) по параллели 50° ю.ш., б) по меридиану 50° в.д., в) по экватору, г) по параллели 10° с.ш.

16. Какие из перечисленных названий природных объектов не принадлежат вулканам?
а) Мауна-Лоа, б) Титикака в) Килауэа, г) Ключевская сопка.
17. Какой прибор предназначен для измерения расстояний и превышений одной точки над другой?
а) анемометр, б) буссоль, в) нивелир, г) ватерпас.
18. По самому широкому на Земле проливу можно попасть:
а) из Атлантического океана в Тихий, б) из Тихого океана в Атлантический,
в) из Атлантического океана в Северный ледовитый, г) из Тихого океана в Индийский.
19. На какой территории была зарегистрирована относительная влажность воздуха 0%?
а) Антарктида, б) Сахара, в) Эверест, г) на Земле нет такого места.
20. Вследствие потепления климата в Казани появились птицы, которые не характерны для территории Татарстана. Это –
а) свиристели, б) бакланы, в) утки, г) дрозды.

	Задание 1.	Задание 2.	Задание 3.	Задание 4.	тест	итого
Баллы						

**Задания муниципального этапа
всероссийской олимпиады школьников по географии
2025-2026 учебный год, 8 класс**

Время выполнения – 150 минут

Максимальный балл – 124

Не разрешается пользоваться атласами, любыми справочными данными, в том числе сотовыми телефонами, и прочими гаджетами. Пишите разборчиво! Удачи!

Аналитический раунд

Задание 1.

Максимальное количество баллов – 10

Прочтите текст, ответьте на вопросы

Эта двуглавая гора находится в пределах величайшей по протяженности горной системы Земли и до 1867 года являлась самой высокой на территории Империи, что отражалось в её названии – Большая гора. Позднее она стала самой высокой горой целого материка и трижды изменила свое название: в 1897 году – название А, в 2015 году – название Б, а в 2025 году ей снова вернули название А.

Назовите:

Горную систему и эпоху складчатости, в которую она образовалась _____

Название Империи _____

Название А _____

Название Б _____

Задание 2.

Максимальное количество баллов – 17

Задание по топографической карте

Внимательно рассмотрите часть топографической карты. Ответьте на вопросы.

1. Определите и запишите именованный масштаб карты. _____

2. Перечислите способы, с помощью которых можно определить масштаб этой карты. _____

3. Определите, через сколько метров проведены горизонтали. _____

4. Определите географические координаты г. Михалинская _____

5. Определите истинный и магнитный азимуты направления движения с г. Карьерная на г. Михалинская, если магнитное склонение западное 2° . _____

6. К северо-востоку от г. Михалинская находится лес. Как он называется?

Охарактеризуйте его (укажите породу деревьев и количественные характеристики)

7. Чему будет равно атмосферное давление на уровне уреза воды р. Соть, если на г. Михалинская оно соответствует нормальному атмосферному давлению. Расчеты запишите. _____

8. Какой берег у р.Соть пологий? _____

9. Перечислите, какие пути сообщения ведут к угольным шахтам? _____

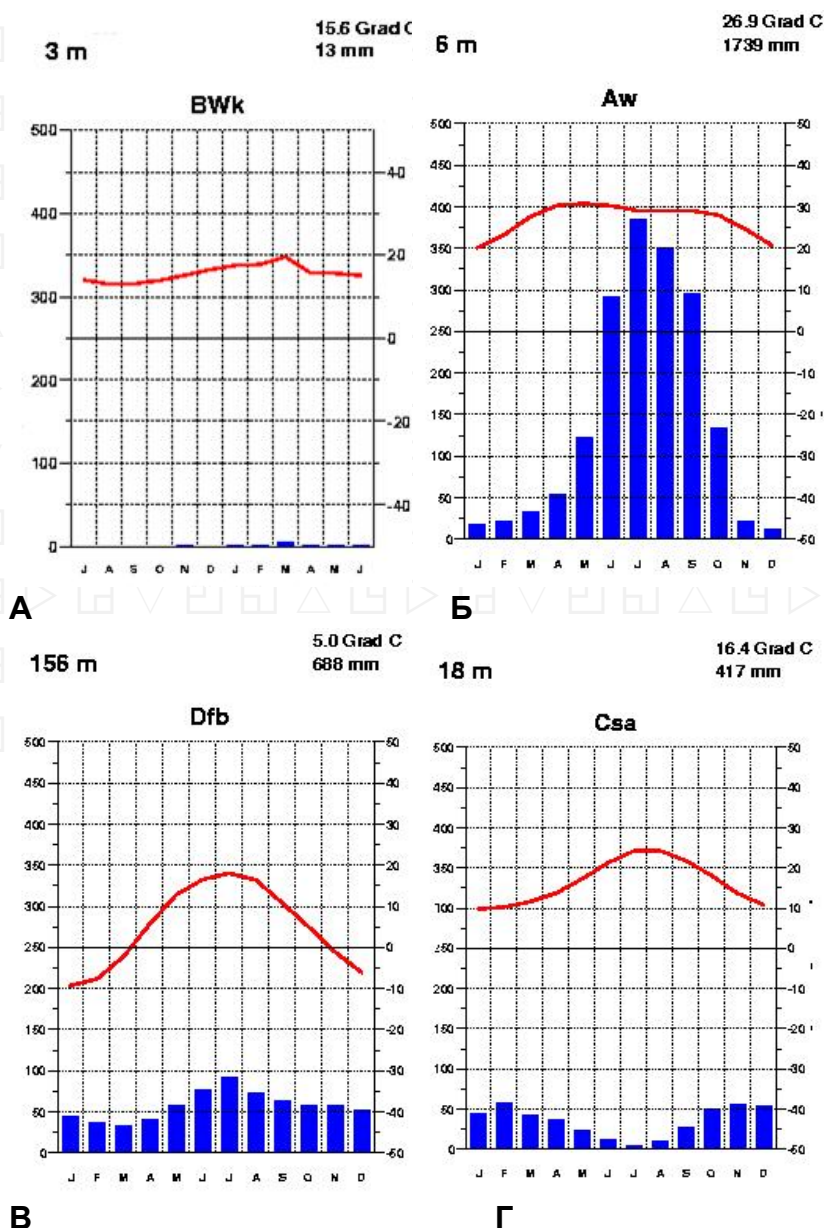
10. Верно ли, что шахты являются недействующими? _____

Задание 3.

Максимальное количество баллов – 16

Четыре друга - юные географы одной из школ Татарстана летом посетили разные уголки земного шара и каждый привез с собой климатограмму того места, где он побывал.

Прочтите краткую характеристику территории, сопоставьте место пребывания с климатограммой (у климатограммы А внимательно посмотрите на месяцы), ответьте на вопросы, заполните таблицу.



1. Первый школьник побывал в центре одной из крупнейших равнин мира (климатограмма соответствует центру равнины). Поверхность равнины характеризуется развитостью речной сети: часть рек стекает в Северный ледовитый океан, другая часть относится к водосборному бассейну Атлантического океана, а самая крупная река — к области внутреннего стока. Как называется равнина и самая крупная река?

2. Второй школьник побывал на самом большом острове моря, которое является реликтом океана Тетис и имеет связь с Атлантическим океаном через узкий пролив. На острове находится самый высокий действующий вулкан Европы. Как называется остров и вулкан?

3. Третий школьник побывал в пределах природной зоны (биома), которая сформировалась под воздействием холодного течения, на западном побережье материка, расположенного в трех полушариях. Поверхность здесь сложена песчаным и каменистым материалом. Водится жук-чернотелка и растение вельвичия. Здесь можно пособирать литопсы. Как называется эта территория? Что такое литопсы?

4. Четвертый школьник побывал в самой крупной речной дельте в мире, которая образуется при слиянии двух крупных рек региона. Как называются эти две реки? Здесь произрастает самый большой мангровый лес (вечнозеленый лиственный) – лес в приливо-отливной зоне.

№ описания	Литера климатограммы	Климатический пояс	Ответ на вопросы
1			
2			
3			
4			

Задание 4. Максимальное количество баллов – 61

Задания на знание географической номенклатуры (по 1 баллу за верный ответ)

Во вторую колонку таблицы следует записывать номер объекта, который в вопросах отмечен подчёркиванием. Цифровое обозначение государств или крупных регионов на карте проставлено около их административных центров, названия рек – около их устьев.

Вопрос	№ на карте	Дополнительные вопросы	Ответ
1. Самый крупный остаток первобытного реликтового <u>леса</u> на территории Европы		Запишите: а) его название; б) названия государств, на которых расположен данный лес; в) названия столиц этих государств	
2. Это явление распространено на острове Гомера и получило название «сильбо гомеро». Долгое время оно считалось единственным в своём роде. Сегодня известно, что посредством такого способа могут общаться в а) <u>Греции</u> , б) <u>Турции</u> , в) <u>Мексике</u> , г) <u>Индии</u> , французских д) <u>Пиренеях</u> , е) <u>Зимбабве</u> и ж) <u>Замбии</u>	а- б- в- г- д- е- ж- з-	Запишите: а) к какому <u>архипелагу</u> относится остров Гомера; б) в состав какого государства входит архипелаг; в) каково происхождение островов <hr/> В случае неправильно указанных названий номер на карте на зачитывается	
3. Какие страны омываются водами некогда крупного <u>морья</u> , но при этом не имеют выхода к Мировому океану?		Запишите: а) название моря; б) названия стран; в) к какой языковой семье относится население этих стран	
4. Самая высокая <u>горная вершина</u>		Запишите: а) название горного массива;	

Антарктиды		б) какому государству принадлежит эта территория; в) название природной зоны, в которой расположен массив	
5. Регион/территория за которой большинством исследователей признаётся первенство возникновения письменности (не иероглифики)		Запишите: а) название <u>территории</u> ; б) народ, создавший первую письменность; в) что явилось носителем для записей	
6. В какой стране находится самое высокогорное постоянное поселение		Запишите: а) название <u>страны</u> и её столицы; б) название горной системы, в пределах которой находится эта страна; в) название уникального озера, расположенного на юго-восточной границе; г) в чем уникальность озера	
7. Какие из перечисленных объектов не являются полуостровами: А) Малакка, В) Малая Азия, С) Маракайбо, Д) Лабрадор, Е) Юкатан, Ф) Бретань, Г) Хайнань <i>(при указании номеров в ответе соблюдайте заданную последовательность, если ответ не знаете, ставьте прочерк)</i>	A: B: C: D: E: F: G:	Запишите: чем является каждый из выбранных вами объектов (не полуостровов)	
8. Крупнейший в мире архипелаг по количеству островов	В поле для ответов	Запишите: а) название архипелага; б) названия <u>пяти самых больших островов</u> в его составе + укажите цифры, которыми отмечены эти острова; в) преобладающий тип естественной растительности	
9. Каких животных завезли в <u>Якутию</u> из <u>Канады</u> , которые успешно адаптировались к суровым условиям проживания?		Запишите: а) название животных; б) в скольких часовых поясах расположена Якутия;	
10. На берегах какой реки расположен город <u>Красноярск</u> ?		Запишите: а) названия реки; б) название ГЭС, которая является самой мощной в России;	

ТЕСТОВЫЙ РАУНД

(за каждый верный ответ- 1 балл, максимально – 20 баллов)

1.	2.	3.	4.	5.	6.	7.	8.	9.	10.
11.	12.	13.	14.	15.	16.	17.	18.	19.	20.

1. На территории какого государстве в день зимнего солнцестояния полуденное солнце находится в зените?
а) России, б) Китае, в) Бразилии, г) Индонезии
2. Какое озеро является самым северным из перечисленных:
а) Виктория, б) Байкал, в) Мичиган, г) Ладожское.
3. Какие горы не имеют отношения к территории России?
а) Уральские горы; б) Алтай; в) Кавказ; г) Тянь-Шань.
4. Какая река относится к бассейну Атлантического океана?
а) Северная Двина, б) Кубань, в) Печора, г) Урал.
5. Остров, на котором расположена столица государства -
а) Мадагаскар, б) Гренландия, в) Сицилия, г) Сахалин.
6. В каком масштабе карта соответствует крупномасштабным картам?
а) 1:100 000, б) 1:500 000, в) 1:1000 000, г) нет верного ответа.
7. Самая большая по площади страна Евразии, которая не выходит к морю:
а) Казахстан, б) Монголия, в) Узбекистан, г) Кыргызстан.
8. Где образуется новая земная кора океанического типа?
а) во внутренних морях, б) в океанических желобах,
в) в зоне срединно-океанических хребтов, г) в области островных дуг.
9. Какая из перечисленных горных пород характерна для щитов платформ?
а) гранит, б) глина, в) известняк, г) песчаник.
10. Откуда дует пассат в южном полушарии?
а) с юга, б) юго-востока, в) с севера, г) с юго-запада.
11. Какой остров получает больше всего осадков за год?
а) Тайвань, б) Калимантан, в) Шри-Ланка, г) Тасмания.
12. Какое течение самое мощное в Мировом океане?
а) Западных ветров, б) Гольфстрим, в) Южное пассатное, г) Северное пассатное.
13. Какое слово является синонимом слова «изогипсы»?
а) меридианы, б) параллели, в) горизонталы, г) вертикали.
14. Линии, соединяющие точки с одинаковой соленостью – это...
а) изобаты, б) изодинамы, в) изобары, г) изогалины.
15. Какое кругосветное путешествие будет короче:
а) по параллели 50° ю.ш, б) по меридиану 50° в.д.,
в) по экватору, г) по параллели 10° с.ш.
16. Какие из перечисленных названий природных объектов не принадлежат вулканам?
а) Мауна-Лоа, б) Попо, в) Килауэа, г) Ключевская сопка.
17. Какой прибор предназначен для измерения расстояний и превышений одной точки над другой?
а) анемометр, б) буссоль, в) нивелир, г) ватерпас.
18. По самому широкому на Земле проливу можно попасть:
а) из Атлантического океана в Тихий, б) из Тихого океана в Атлантический,
в) из Атлантического океана в Северный ледовитый, г) из Тихого океана в Индийский.
19. На какой территории была зарегистрирована относительная влажность воздуха 0%?
а) Антарктида, б) Сахара, в) Эверест, г) на Земле нет такого места.
20. Вследствие потепления климата в Казани появились птицы, которые не характерны для территории Татарстана. Это –
а) свиристели, б) бакланы, в) утки, г) дрозды.

	Задание 1	Задание 2	Задание 3	Задание 4	Задание 5	тест	итого
Баллы							

**Задания муниципального этапа
всероссийской олимпиады школьников по географии
2025-2026 учебный год, 9 класс**

Время выполнения – 180 минут

Максимальный балл – 143

Не разрешается пользоваться атласами, любыми справочными данными, в том числе сотовыми телефонами, и прочими гаджетами. Пишите разборчиво! Удачи!

Аналитический раунд

Задание 1.

Максимальное количество баллов – 12

Прочтите стихотворение В.Брюсова, ответьте на вопросы.

От пышно-полноводной Ладоги
До сумрачных балтийских вод,
То преломляя краски радуги,
То зыбля дымный пароход, -

Полями радостно открытыми,
Прислушиваясь к шуму стад,
И, алыми, во мгле, гранитами,
Глядя, как сфинксы мирно спят...

О какой реке идет речь? _____

Определите уклон реки, если известна длина (74 км) и высота истока (4 м). Запишите расчеты.

По каким 2 субъектам Российской Федерации она протекает? _____

По геологическому возрасту молодой или древней можно считать эту реку? Аргументируйте ответ. _____

Задание 2.

Максимальное количество баллов – 17

Задание по топографической карте

Внимательно рассмотрите часть топографической карты. Ответьте на вопросы.

1. Определите и запишите именованный масштаб карты. _____

2. Перечислите способы, с помощью которых можно определить масштаб этой карты.

3. Определите, через сколько метров проведены горизонтали. _____

4. Определите географические координаты г. Михалинская _____

5. Определите истинный и магнитный азимуты направления движения с г. Карьерная на г. Михалинская, если магнитное склонение западное 2⁰. _____

6. К северо-востоку от г. Михалинская находится лес. Как он называется? Охарактеризуйте его (укажите породу деревьев и количественные характеристики)

7. Чему будет равно атмосферное давление на уровне уреза воды р.Соть, если на г.Михалинская оно соответствует нормальному атмосферному давлению. Расчеты запишите.

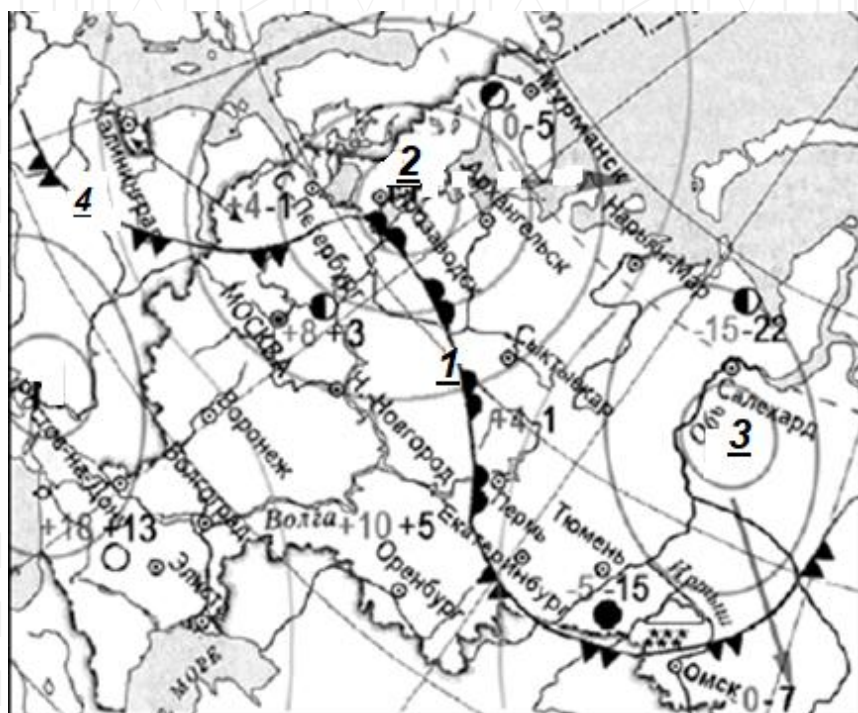
8. Какой берег у р.Соть пологий? _____

9. Перечислите, какие пути сообщения ведут к угольным шахтам? _____

10. Верно ли, что шахты являются недействующими? _____

Задание 3.

Максимальное количество баллов – 15



ис.1. Карта погоды (на 9 апреля 2009 года)

1. В каком из городов 10 апреля 2009 года прогнозировалось наиболее вероятное существенное похолодание (рис.1)?

2. Какой тип атмосферного фронта изображен на рисунке 2?

Какой цифрой фронт такого типа отмечен на рисунке 1?

3. Какой тип погоды характерен для города, который расположен на широте $66,5^{\circ}$ с.ш.?

4. Над какими территориями формируются циклоны, приходящие на Европейскую часть России?

5. Как называется атмосферный вихрь, изображенный на рисунке 3? _____

Какой области, в центральной части отмеченной цифрой (2 или 3), он соответствует на карте? _____

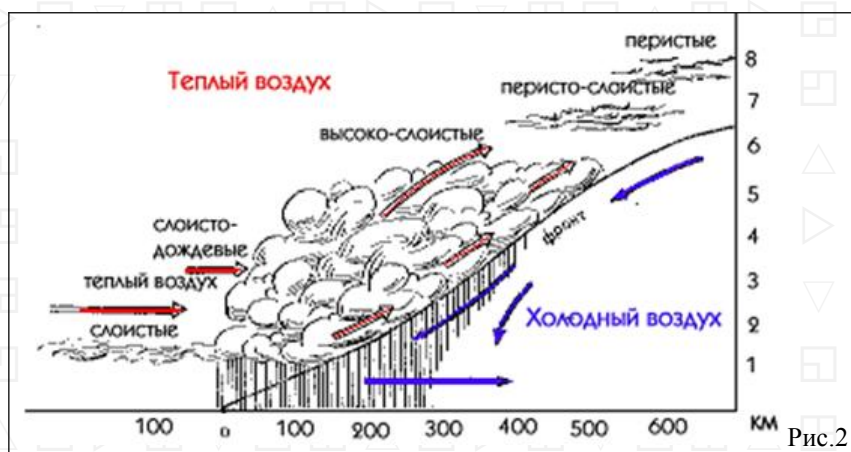


Рис.2




Рис.3

Задание 4. Максимальное количество баллов – 18

В 2025 году отмечается 80-летие Победы в Великой Отечественной войне. Эта Победа досталась СССР ценой невероятных жертв и лишений. Помним и чтим подвиг наших дедов и прадедов, отстоявших свободу и независимость Родины, подаривших жизнь новым поколениям своих потомков.

Говоря о подвиге отдельных городов, мы вспоминаем героизм самоотверженность всего народа. Определите по краткому описанию город и сопоставьте его с фотографией города. Заполните таблицу.

Краткое описание подвига

- А - Город-герой, население которого перенесло почти 900 дней боли и страдания, мужества, доблести и терпения, не имея сообщения по суше с остальной частью страны.
- Б – Город-герой испытал беспрецедентно долгую и ожесточённую осаду, ведя оборонительные бои с октября 1941 года по июль 1942 года. Город был выгоревшим дотла.
- В - Город, на территории которого находится крепость-герой, которая одной из первых в июне 1941 года приняла удары гитлеровской армии, один из самых известных символов стойкости и героизма защитников Отечества.
- Г – Город-герой, который в октябре-декабре 1941 года героически сдерживал натиск врагов, предотвратив прорыв к Москве и устоял, не будучи захваченным противником.
- Д – Город-герой, защитники которого героически сражались с врагом на суше, в воздухе и на море. За время войны город выгорел почти на две трети.
- Е - Место одной из самых продолжительных и кровопролитных битв в истории, которая стала поворотным моментом в войне. Защитники города проявили невероятное мужество и стойкость, обороняя его 200 дней и ночей.

Краткое описание города

- А. Город федерального значения, расположен на побережье моря в области умеренно-континентального климата с чертами средиземноморского.
- Б. Крупнейший в мире по числу жителей город за Северным полярным кругом, незамерзающий порт, специализируется среди прочих направлений на судоремонте.
- В. Город на правом берегу реки, крупный транспортный узел, крупнейший промышленный центр в области. В южной части города берет начало судоходный канал.
- Г. Крупный региональный центр обрабатывающей промышленности; в числе прочих здесь находится производство газовых плит «Гефест».
- Д. Крупный промышленный, научный и культурный центр. В народе широко известен производством оружия, самоваров и пряников.
- Е. Самый северный город-миллионник в мире, трижды менял название. Здесь расположены судостроительный, тракторный, трубный заводы и другие предприятия.

№	Название города	Подвиг	Описание города	№ рисунка	Название города	Подвиг	Описание города
1				4			
2				5			
3				6			




Рис.1



Рис.2



Рис.3



Рис.4



Рис.5



Рис.6

Задание 5. Максимальное количество баллов – 61

Задания на знание географической номенклатуры (по 1 баллу за верный ответ)

Во вторую колонку таблицы следует записывать номер объекта, который в вопросах отмечен подчёркиванием. Цифровое обозначение государств или крупных регионов на карте проставлено около их административных центров, названия рек – около их устьев.

Вопрос	№ на карте	Дополнительные вопросы	Ответ
1. Самый крупный остаток первобытного реликтового <u>леса</u> на территории Европы		Запишите: а) его название; б) названия государств, на которых расположен данный лес; в) названия столиц этих государств	
2. Это явление распространено на острове Гомера и получило название «сильбо гомеро». Долгое время оно считалось единственным в своём роде. Сегодня известно, что посредством такого способа могут общаться в а) <u>Греции</u> , б) <u>Турции</u> , в) <u>Мексике</u> , г) <u>Индии</u> , французских д) <u>Пиренеях</u> , е) <u>Зимбабве</u> и ж) <u>Замбии</u>	а- б- в- г- д- е- ж- з-	Запишите: а) к какому <u>архипелагу</u> относится остров Гомера; б) в состав какого государства входит архипелаг; в) каково происхождение островов <i>В случае неправильно указанных названий номер на карте на зачитывается</i>	
3. Какие страны омываются водами некогда крупного <u>моря</u> , но при этом не имеют выхода к Мировому океану?		Запишите: а) название моря; б) названия стран; в) к какой языковой семье относится население этих стран	
4. Самая высокая <u>горная вершина</u> Антарктиды		Запишите: а) название горного массива;	

		б) какому государству принадлежит эта территория; в) название природной зоны, в которой расположен массив	
5. Регион/территория за которой большинством исследователей признаётся первенство возникновения письменности (не иероглифики)		Запишите: а) название <u>территории</u> ; б) народ, создавший первую письменность; в) что явилось носителем для записей	
6. В какой стране находится самое высокогорное постоянное поселение		Запишите: а) название <u>страны</u> и её столицы; б) название горной системы, в пределах которой находится эта страна; в) название уникального озера, расположенного на юго-восточной границе; г) в чем уникальность озера	
7. Какие из перечисленных объектов не являются полуостровами: А) Малакка, В) Малая Азия, С) Маракайбо, Д) Лабрадор, Е) Юкатан, Ф) Бретань, Г) Хайнань (при указании номеров в ответе соблюдайте заданную последовательность, если ответ не знаете, ставьте прочерк)	А: В: С: Д: Е: Ф: Г:	Запишите: чем является каждый из выбранных вами объектов (не полуостровов)	
8. Крупнейший в мире архипелаг по количеству островов	В поле для ответов	Запишите: а) название архипелага; б) названия <u>пяти самых больших островов</u> в его составе + укажите цифры, которыми отмечены эти острова; в) преобладающий тип естественной растительности	
9. Каких животных завезли в <u>Якутию</u> из <u>Канады</u> , которые успешно адаптировались к суровым условиям проживания?		Запишите: а) название животных; б) в скольких часовых поясах расположена Якутия;	
10. На берегах какой реки расположен город <u>Красноярск</u> ?		Запишите: а) названия реки; б) название ГЭС, которая является самой мощной в России;	

ТЕСТОВЫЙ РАУНД

(за каждый верный ответ- 1 балл, максимально – 20 баллов)

1.	2.	3.	4.	5.	6.	7.	8.	9.	10.
11.	12.	13.	14.	15.	16.	17.	18.	19.	20.

1. Какое озеро является самым северным в России из перечисленных:
а) Селигер, б) Ханка, в) Ладожское, г) Таймыр.
2. К горным областям герцинской складчатости принято относить:
а) Восточный Саян; б) Пиренеи; в) Карпаты; г) Алтай.
3. Река, относящаяся к бассейну Атлантического океана:
а) Северная Двина, б) Кубань, в) Печора, г) Урал.
4. Остров, на котором расположена столица государства:
а) Новая Гвинея, б) Кергелен, в) Крит, г) Кюсю.
5. Какой из перечисленных объектов является полуостровом?
а) Эйяфьядлайёкюдль, б) Салентина, в) Ньюфаундленд, г) Шатт-эль-Араб.
6. Форма рельефа, созданная горным ледником:
а) кар, б) карры, в) булгуннях, г) озовая гряда.
7. Какие почвы характерны для Карелии?
а) мерзлотно-таёжные, б) бурые лесные, в) серые лесные, г) подзолистые.
8. Столица какой страны ранее носила название Целиноград?
а) Таджикистан, б) Узбекистан, в) Казахстан, г) Туркмения.
9. Для какой территории характерен флористический ландшафт каатинга или «лес без тени»?
а) Бразильское плоскогорье, б) Лаврентийская возвышенность, в) впадина Калахари, г) Восточно-Африканское плоскогорье.
10. Что на Земле не влияет на смену времен года?
а) вращение Земли вокруг своей оси, б) вращение Земли вокруг Солнца, в) наклон земной оси к плоскости орбиты, г) форма земной орбиты.
11. В каком из перечисленных городов максимальная среднемесячная температура наблюдается весной?
а) Рабат, б) Пекин, в) Амман, г) Дели.
12. Приток Лены с эвенкийским названием Сиинэ в русском языке превратился в Синюю, но поскольку река берёт начало в торфяном болоте, вода в ней:
а) красная, б) белая, в) чёрная, г) жёлтая.
13. Субъект РФ, в котором распространена светлохвойная тайга:
а) Вологодская область, б) Республика Саха-Якутия, в) Республика Татарстан, г) Брянская область.
14. Какой прибор предназначен для измерения расстояний и превышений одной точки над другой?
а) анемометр, б) буссоль, в) нивелир, г) ватерпас.
15. Где образуется новая земная кора океанического типа?
а) во внутренних морях, б) в океанических желобах, в) в зоне срединно-океанических хребтов, г) в области островных дуг.
16. Какой вулкан находится на острове недалеко от столицы государства?
а) Ключевская Сопка, б) Тятя, в) Кракатау, г) Фудзияма.
17. Вследствие потепления климата в Казани появились птицы, которые не характерны для территории Татарстана. Это –
а) свиристели, б) бакланы, в) утки, г) дрозды.
18. Какое кругосветное путешествие будет короче:
а) по параллели 50° ю.ш, б) по меридиану 50° в.д.

в) по экватору, г) по параллели 10° с.ш.

19. Какие из перечисленных названий природных объектов не принадлежат вулканам?

а) Мауна-Лоа, б) Поопо, в) Килауэа, г) Ключевская сопка.

20. На какой территории была зарегистрирована относительная влажность воздуха 0%?

а) Антарктида, б) Сахара, в) Эверест, г) на Земле нет такого места.

	Задание 1.	Задание 2.	Задание 3.	Задание 4.	Задание 5.	тест	итого
Баллы							

**Задания муниципального этапа
всероссийской олимпиады школьников по географии
2025-2026 учебный год, 10-11 класс**

Время выполнения – 180 минут

Максимальный балл – 169

Не разрешается пользоваться атласами, любыми справочными данными, в том числе сотовыми телефонами, и прочими гаджетами. Пишите разборчиво! Удачи!

Аналитический раунд

Задание 1. Максимальное количество баллов – 20

Химическая и нефтехимическая промышленность является одной из самых прогрессивных и быстро развивающихся отраслей в мировой промышленности. Во второй декаде ноября 2025 года, в Москве прошла Международная выставка «ХИМИЯ», которая проводится в Москве с 1965 года и является одной из наиболее престижных выставок в своей отрасли. На площадках выставки можно было ознакомиться с продукцией, выпускаемой предприятиями данной отрасли народного хозяйства. Из предложенного списка впишите предприятия в соответствующую строку таблицы, учитывая характеристику выпускаемой продукции, укажите субъект Российской Федерации на территории которого расположено предприятие.

**«Газпром нефтехим Салават», «Нижнекамскнефтехим», «Уралкалий»,
«Казаньоргсинтез»**

	Наименование предприятия	Характеристика по выпускаемой продукции	Субъект РФ
А		Единственный российский производитель поликарбонатов, сэвилена, металлоценового полиэтилена – пластиков высокой прочности, а также один из крупнейших в стране производителей полиэтиленов высокой и низкой плотности.	
Б		Мировой лидер по выпуску изопренового каучука, входит в тройку крупнейших поставщиков бутиловых каучуков и в топ-10 мировых производителей синтетического каучука.	
В		Одно из крупнейших в мире предприятий по производству калийных удобрений.	
Г		Производит бензин, дизельное топливо, топочные мазуты, а также пластификатор ДОФ, бутиловые спирты, серу, аммиак, карбамид, бензол, акриловую кислоту и другие.	

Ответьте на вопросы:

1. Какие из указанных предприятий входят в группу СИБУР? _____

2. Какой процесс, связанный с особенностями сырья для предприятия В, происходит под городами (назовите их), в связи с которым происходит расселение жилых домов, других

строений, а также стал необходим перенос железнодорожной станции и т.д.?

3. При преобладающем переносе воздуха с юго-запада предприятие Б влияет на возможное повышение содержания загрязняющих веществ в атмосферном воздухе в одном из крупных городов. Назовите город. _____

4. На какой фактор обращается особое внимание при функционировании предприятий химической и нефтехимической промышленности? _____

Задание 2. Максимальное количество баллов – 12

Прочтите стихотворение В.Брюсова, ответьте на вопросы.

От пышно-полноводной Ладоги	Полями радостно открытыми,
До сумрачных балтийских вод,	Прислушиваясь к шуму стад,
То преломляя краски радуги,	И, алыми, во мгле, гранитами,
То зыбля дымный пароход, -	Глядя, как сфинксы мирно спят...

О какой реке говорится в стихотворении? _____

Определите уклон реки, если известна длина (74 км) и высота истока (4 м). Запишите расчеты. _____

По каким 2 субъектам Российской Федерации она протекает? _____

По геологическому возрасту молодой или древней можно считать эту реку? Аргументируйте ответ. _____

Задание 3. Максимальное количество баллов – 17

Задание по топографической карте.

Внимательно рассмотрите часть топографической карты. Ответьте на вопросы.

1. Определите и запишите именованный масштаб карты. _____

2. Перечислите способы, с помощью которых можно определить масштаб этой карты. _____

3. Определите, через сколько метров проведены горизонтالي. _____

4. Определите географические координаты г. Михалинская _____

5. Определите истинный и магнитный азимуты направления движения с г. Карьерная на г. Михалинская, если магнитное склонение западное 2° . _____

6. К северо-востоку от г. Михалинская находится лес. Как он называется? Охарактеризуйте его (укажите породу деревьев и количественные характеристики)

7. Чему будет равно атмосферное давление на уровне уреза воды р.Соть, если на г.Михалинская оно соответствует нормальному атмосферному давлению. Расчеты запишите. _____

8. Какой берег у р.Соть пологий? _____

9. Перечислите, какие пути сообщения ведут к угольным шахтам? _____

10. Верно ли, что шахты являются недействующими? _____

Задание 4. Максимальное количество баллов – 18

--

В 2025 году отмечается 80-летие Победы в Великой Отечественной войне. Эта Победа досталась СССР ценой невероятных жертв и лишений. Помним и чтим подвиг наших дедов и прадедов, отстоявших свободу и независимость Родины, подаривших жизнь новым поколениям своих потомков.

Говоря о подвиге отдельных городов, мы вспоминаем героизм и самоотверженность всего народа. Определите по краткому описанию город и сопоставьте его с фотографией города. Заполните таблицу.

Краткое описание подвига

А - Город-герой, население которого перенесло почти 900 дней боли и страдания, мужества, доблести и терпения, не имея сообщения по суше с остальной частью страны.

Б – Город-герой испытал беспрецедентно долгую и ожесточённую осаду, ведя оборонительные бои с октября 1941 года по июль 1942 года. Город был выгоревшим дотла.

В - Город, на территории которого находится крепость-герой, которая одной из первых в июне 1941 года приняла удары гитлеровской армии, один из самых известных символов стойкости и героизма защитников Отечества.

Г – Город-герой, который в октябре-декабре 1941 года героически сдерживал натиск врагов, предотвратив прорыв к Москве и устоял, не будучи захваченным противником.

Д – Город-герой, защитники которого героически сражались с врагом на суше, в воздухе и на море. За время войны город выгорел почти на две трети.

Е - Место одной из самых продолжительных и кровопролитных битв в истории, которая стала поворотным моментом в войне. Защитники города проявили невероятное мужество и стойкость, обороняя его 200 дней и ночей.

Краткое описание города

А. Город федерального значения, расположен на побережье моря в области умеренно-континентального климата с чертами средиземноморского.

Б. Крупнейший в мире по числу жителей город за Северным полярным кругом, незамерзающий порт, специализируется среди прочих направлений на судоремонте.

В. Город на правом берегу реки, крупный транспортный узел, крупнейший промышленный центр в области. В южной части города берет начало судоходный канал.

Г. Крупный региональный центр обрабатывающей промышленности; в числе прочих здесь находится производство газовых плит «Гефест».

Д. Крупный промышленный, научный и культурный центр. В народе широко известен производством оружия, самоваров и пряников.

Е. Самый северный город-миллионник в мире, трижды менял название. Здесь расположены судостроительный, тракторный, трубный заводы и другие предприятия.

№	Название города	Подвиг	Описание города	№ рисунка	Название города	Подвиг	Описание города
1				4			
2				5			
3				6			




Рис 1



Рис.2




Рис.3



Рис.4.



Рис.5



Рис.6

Задание 5. Максимальное количество баллов – 82

Задания на знание географической номенклатуры (по 1 баллу за верный ответ)

Во вторую колонку таблицы следует записывать номер объекта, который в вопросах отмечен подчёркиванием. Цифровое обозначение государств или крупных регионов на карте проставлено около их административных центров, названия рек – около их устьев.

Вопрос	№ на карте	Дополнительные вопросы	Ответ
1. Самый крупный остаток первобытного реликтового <u>леса</u> на территории Европы		Запишите: а) его название; б) названия государств, на которых расположен данный лес; в) названия столиц этих государств	а) б) в)
2. Это явление распространено на острове Гомера и получило название «сильбо гомеро». Долгое время оно считалось единственным в своём роде. Сегодня известно, что посредством такого способа могут общаться в а) <u>Греции</u> , б) <u>Турции</u> , в) <u>Мексике</u> , г) <u>Индии</u> , французских д) <u>Пиренеях</u> , е) <u>Зимбабве</u> и ж) <u>Замбии</u>	а- б- в- г- д- е- ж- з-	Запишите: а) к какому <u>архипелагу</u> относится остров Гомера; б) в состав какого государства входит архипелаг; в) каково происхождение островов ----- В случае <i>неправильно указанных названий номер на карте не зачитывается</i>	
3. Какие страны омываются водами крупного моря, но при этом не имеют выхода к Мировому океану?		Запишите: а) название <u>моря</u> ; б) названия стран; в) к какой языковой семье относится население этих стран	
4. Самая высокая <u>горная вершина</u> Антарктиды		Запишите: а) название горного массива; б) какому государству принадлежит эта территория; в) название природной зоны, в которой расположен массив	
5. В какой европейской стране впервые стали использовать подсолнечник в качестве масличной культуры?		Запишите: а) название <u>государства</u> и его столицы; б) три страны лидеры по выращиванию подсолнечника	

6. Регион/территория за которой большинством исследователей признаётся первенство возникновения письменности (не иероглифики)		Запишите: а) название <u>территории</u> ; б) народ, создавший первую письменность; в) что явилось носителем для записей	
7. В какой стране находится самое высокогорное постоянное поселение		Запишите: а) название <u>страны</u> и её столицы; б) название горной системы, в пределах которой находится эта страна; в) название уникального озера, расположенного на юго-восточной границе; г) в чем уникальность озера	
8. Какие из перечисленных объектов не являются полуостровами: А) <u>Малакка</u> , В) <u>Малая Азия</u> , С) <u>Маракайбо</u> , Д) <u>Лабрадор</u> , Е) <u>Юкатан</u> , F) <u>Бретань</u> , G) <u>Хайнань</u> <i>(при указании номеров в ответе соблюдайте заданную последовательность, если ответ не знаете, ставьте прочерк)</i>	А: В: С: Д: Е: F: G:	Запишите: чем является каждый из выбранных вами объектов (не полуостровов)	
9. Какая <u>страна</u> имеет наименьшую плотность населения в мире?		Запишите: а) название страны; б) название её столицы в) с какими государствами граничит	
10. Крупнейший в мире архипелаг по количеству островов	В поле для ответов	Запишите: а) название архипелага; б) названия <u>пяти самых больших островов</u> в его составе + укажите цифры, которыми отмечены эти острова; в) преобладающий тип естественной растительности	
11. Каких животных завезли в <u>Якутию</u> из <u>Канады</u> , которые успешно адаптировались к суровым условиям проживания?		Запишите: а) название животных; б) в скольких часовых поясах расположена Якутия;	
12. На берегах какой реки расположен город <u>Красноярск</u> ?		Запишите: а) названия реки; б) название ГЭС, которая является самой мощной в России;	
13. На каком полуострове расположена <u>Дания</u> ?		Запишите: а) название полуострова; б) водами каких морей омываются его берега	

14. С названием какого города этимологически связано слово «джинсы»?		Запишите: а) название города; б) название <u>страну</u> , частью которой он является;	
15. Какая <u>страна</u> до 1935 года называлась Персией?		Запишите: а) современное название страны; б) название денежной единицы страны	

ТЕСТОВЫЙ РАУНД

(за каждый верный ответ- 1 балл, максимально – 20 баллов)

1.	2.	3.	4.	5.	6.	7.	8.	9.	10.
11.	12.	13.	14.	15.	16.	17.	18.	19.	20.

- Где образуется новая земная кора океанического типа?
а) во внутренних морях, б) в океанических желобах, в) в зоне срединно-океанических хребтов, г) в области островных дуг.
- К горным областям герцинской складчатости относятся:
а) Алтай, Урал, Восточный Саян; б) Алтай, Аппалачи, Пиренеи; в) Алтай, Карпаты, Тянь-Шань; г) Алтай, Гарц, Зеравшанский хребет.
- Река, относящаяся к бассейну Атлантического океана:
а) Северная Двина, б) Кубань, в) Печора, г) Урал.
- Остров, на котором расположена столица государства:
а) Новая Гвинея, б) Кергелен, в) Крит, г) Кюсю.
- Какой из перечисленных объектов является полуостровом?
а) Эйяфьядлайёкюдль, б) Салентина, в) Ньюфаундленд, г) Шатт-эль-Араб.
- Самая большая по площади страна Африки, которая не выходит к морю:
а) Эфиопия, б) ДР Конго, в) Зимбабве, г) Мали.
- Какие почвы характерны для Карелии?
а) мерзлотно-таёжные, б) бурые лесные, в) серые лесные, г) подзолистые.
- Современная Чехия образована в результате слияния Чехии, части Силезии и:
а) Моравии, б) Мазурии, в) Мазовии, г) Славонии.
- В каком из перечисленных субъектов Российской Федерации нет АЭС:
а) Ленинградская область, б) Красноярский край, в) Чукотский автономный округ, г) Саратовская область.
- Столица какой страны ранее носила название Целиноград?
а) Таджикистан, б) Узбекистан, в) Казахстан, г) Туркмения.
- Для какой территории характерен флористический ландшафт каатинга или «лес без тени»?
а) Бразильское плоскогорье, б) Лаврентийская возвышенность, в) впадина Калахари, г) Восточно-Африканское плоскогорье.
- Для какого государства дракон является национальным символом, который присутствует и на флаге, и на гербе (сразу два)?
а) Непал, б) Мьянма, в) Бутан, г) Лаос.
- В каком из перечисленных городов максимальная среднемесячная температура наблюдается весной?
а) Рабат, б) Пекин, в) Амман, г) Дели.

14. Приток Лены с эвенкийским названием Сиинэ в русском языке превратился в Синюю, но поскольку река берёт начало в торфяном болоте, вода в ней:
а) красная, б) белая, в) чёрная, г) жёлтая.
15. Субъект РФ, в котором распространена светлохвойная тайга:
а) Вологодская область, б) Республика Саха-Якутия,
в) Республика Татарстан, г) Брянская область.
16. Какой прибор предназначен для измерения расстояний и превышений одной точки над другой?
а) анемометр, б) буссоль, в) нивелир, г) ватерпас.
17. Медленное потепление и затяжные дожди приносит:
а) антициклон, б) тёплый атмосферный фронт, в) холодный атмосферный фронт
18. Какой вулкан находится на острове недалеко от столицы государства?
а) Ключевская Сопка, б) Тятя, в) Кракатау, г) Фудзияма.
19. В каком из этих регионов нет территорий, находящихся ниже нулевой изогипсы?
а) Калифорния, б) Израиль, в) Луизиана, г) Сербия
20. Анталаотра - это:
а) озеро на границе Перу и Боливии,
б) форма залегания горных пород,
в) основное население Коморских островов,
г) остров в заливе Святого Лаврентия.